



وزارة التربية

الإدارة العامة لمنطقة مبارك الكبير التعليمية

كنترول مبارك الكبير

امتحانات الفصل الدراسي الأول
٢٠٢٠ / ٢٠١٩

الخامس	الصف
الاجتماعيات	المادة



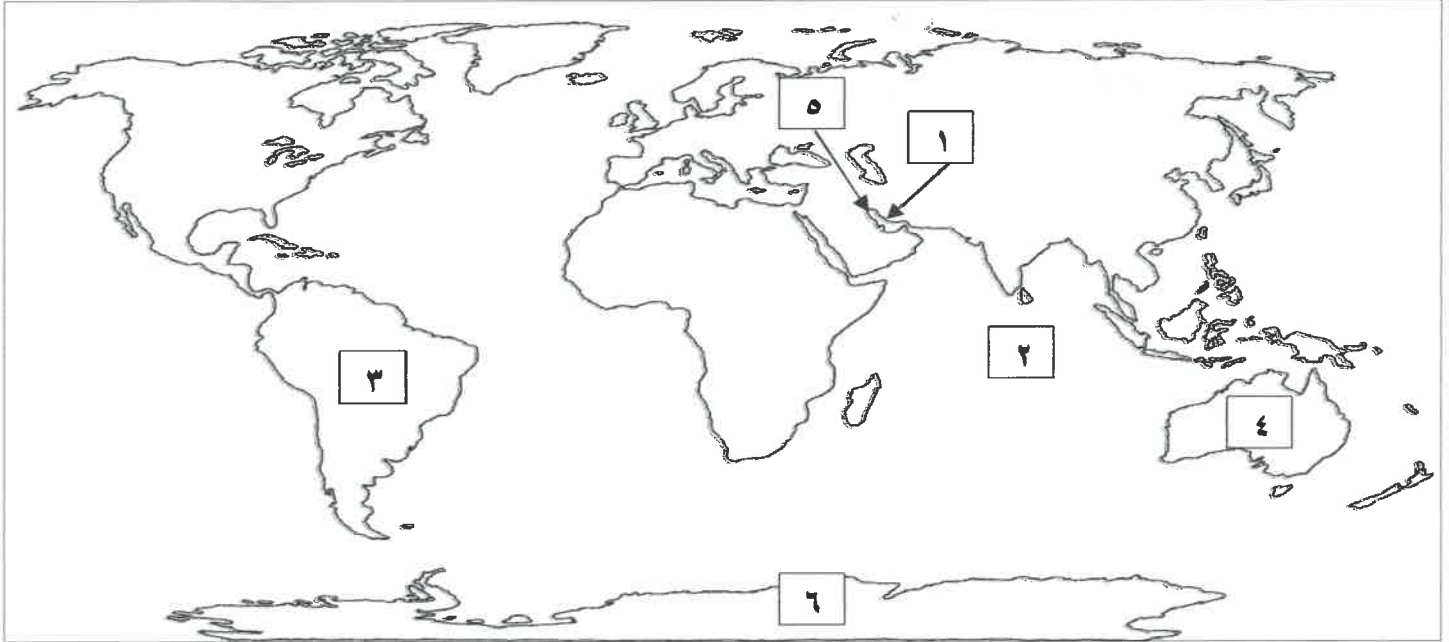
العام الدراسي ٢٠٢٠/٢٠١٩		وزارة التربية الإدارة العامة لمنطقة مبارك الكبير التعليمية
عدد الأوراق: (٤)		التوجيه الفني العام للاجتماعيات
الزمن: ساعة وربع		

نموذج الإجابة لامتحان الفصل الدراسي الأول للصف الخامس لمقرر بلادي الكويت

أجب عن جميع الأسئلة

السؤال الأول: (موضوعي) ويتكون من (أ - ب):

أ لاحظ خريطة العالم الصماء ثم اكتب مدلولات الأرقام التالية: (٦ = ٦ × ١)



- ١- الخليج العربي يمثل على الخريطة الرقم (١) ص ١٩
- ٢- أصغر قارات العالم من حيث المساحة يمثلها على الخريطة الرقم (٤) ص ٢١
- ٣- قارة غير مأهولة بالسكان ويمثلها على الخريطة الرقم (٦) ص ٢١
- ٤- المحيط الهندي يمثله على الخريطة الرقم (٢) ص ٢٢
- ٥- دولة الكويت يمثلها على الخريطة الرقم (٥) ص ٢١
- ٦- قارة أمريكا الجنوبية يمثلها على الخريطة الرقم (٣) ص ٢١

ب- ظلل (أ) إذا كانت العبارة صحيحة و (ب) إذا كانت العبارة خاطئة: (٦ = ٦ × ١)

م	العبارة	(أ)	(ب)
١	يصل عدد المسلمين في العالم الإسلامي إلى نصف سكان العالم.		ص ٣١
٢	المحمية الطبيعية مكان تخصصه الدولة لحماية البيئة.		ص ٤٥
٣	اكتشفت دولة الكويت النفط الخفيف عالي الجودة في حقل الصابرية.	ص ٦٠	
٤	ظهرت الأوبئة والأمراض بسبب ممارسات الإنسان السلبية ضد البيئة.	ص ٦٢	
٥	يعد الغاز الطبيعي أحد مصادر الطاقة المتجددة.		ص ٧٨
٦	حرصت الدولة على ترشيد استهلاك الكهرباء باستخدام الطاقة الشمسية بالمنشآت منها المساجد	ص ٨٢	

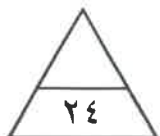
السؤال الثاني (موضوعي) يتكون من (أ - ب) :

أ- ضع خطأ تحت الخيار الصحيح من بين الخيارات التي تلي كل عبارة: (٦ = ٦ × ١)

- ١- يمثل الموارد الطبيعية الحية :
الرياح - الماء - النباتات - الشمس - ص ٣٨
- ٢- يقل نمو النباتات في فصل الصيف وذلك بسبب :
شدة الحرارة - كثرة الأمطار - انخفاض الحرارة - غنى التربة - ص ٤٢
- ٣- اهتمت دولة الكويت بتوفير مناطق خاصة بتربية الحيوانات من هذه المناطق:
كبد - القرين - العقيلة - حولي - ص ٥١
- ٤- أكبر الحقول النفطية في دولة الكويت حقل :
بحرة - برقان - الصابرية - رتقه - ص ٥٨
- ٥- تم تصدير أول شحنة نפט من ميناء :
الشعبية - الشويخ - عبد الله - الأحمدي - ص ٥٩
- ٦- يعرف استخدام الموارد المتاحة بالشكل الأمثل :
الاسراف - الاستنزاف - التدوير - ترشيد الاستهلاك - ص ٦٤

ب- اختر للمجموعة (أ) ما يرتبط بها من المجموعة (ب) بوضع الرقم في المكان المناسب: (٦ = ٦ × ١)

م	المجموعة (أ)	الرقم	المجموعة (ب)
١	تبلغ نسبة اليابسة من سطح الكرة الأرضية ص ١٧	٢	الصحراوي
٢	تقع دولة الكويت ضمن الأقليم المناخي ص ٤١	١	٣٠٪
٣	نجح معهد الكويت للأبحاث العلمية في استزراع بعض الأسماك مثل ص ٥٤	٤	١٠٪
٤	نسبة احتياطي النفط الكويتي بالنسبة للاحتياطي العالمي ص ٥٨	٦	الطاقة
٥	مكان نعيش فيه ونمارس نشاطاتنا المختلفة ص ٦٣	٣	الشعم
٦	تعرف القدرة على القيام بعمل معين ص ٧٣	٥	البيئة



السؤال الثالث: (مقالى) يتكون من (أ - ب)

أ- قارن بين كل مما يلى حسب المطلوب منك فى الجدول التالى : (١×٤ = ٤)

المقارنة	النباتات المعمرة (الدائمة) ص ٤٢	النباتات الحولية (الموسمية) ص ٤٢
المفهوم	نباتات تنمو طول العام وجذورها عميقة تساعدها على الاستفادة من الماء مثل العرفج والرمث	حشائش تتبت بعد سقوط الأمطار وتموت بسرعة مثل الربلة والخزامى

المقارنة	الطاقة المتجددة ص ٧٣	الطاقة الغير المتجددة ص ٧٣
مصادرها	الرياح - المياه- الشمس	الفحم- النفط - الغاز الطبيعي

ب- ضع عنوان مناسباً للصور التالية: (١×٤ = ٤) (ما يراه المصحح مناسب)



النفط.. ص ٥٥



شباك الصيد.. ص ٥٣



دوارة الرياح.. ص ٧٦



التدوير.. ص ٦٤

السؤال الرابع: (مقالى) يتكون من (أ - ب) :

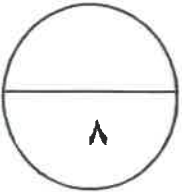
أ- أجب عن ما يلي: (١ × ٤ = ٤)

- ١- خصائص الغاز الطبيعي . ص ٧٨
 - آمن جداً وصديق للبيئة .
 - يعد من الغازات غير السامة .
 - أكثر أنواع الطاقة استخداماً .
 - ليس له رائحة ولا لون .
- ٢- المشاريع التي ساهمت في المحافظة علي النفط والبيئة . ص ٦٠
- مشروع الوقود البيئي .
 - مشروع الطاقة البديلة .



ب- علل لما يلي: (١ × ٤ = ٤)

- ١- تسمية دول الخليج العربية بهذا الاسم. ص ٢٣
- لأنها تطل على مسطح مائي يسمى " الخليج العربي "
- ٢- تسمية النفط بالذهب الأسود. ص ٥٥
- لأهميته وقيمته الكبيرة فهو غالي الثمن مثل الذهب .
- ٣- اختيار منطقة الشقاييا كمحطة لتوليد الكهرباء. ص ٨٠
- لأنها تتميز بشدة الحرارة / وسطوع الشمس / استمرار حركة الرياح طوال العام .
- لاتساع الأراضي المفتوحة / وسهولة التضاريس .



انتهت الأسئلة